

### 第八章 第三节 第一课时 俄罗斯 自主学习单

班别\_\_\_\_\_ 姓名\_\_\_\_\_ 学号\_\_\_\_\_

#### ● 课前习

扫描二维码，观看俄罗斯的相关微课视频。



#### ● 课中习

##### ● 学习任务一：俄罗斯在哪里？

根据老师的提示，完成下列问题。（5分钟）

1、用黑笔描绘北极圈，概括俄罗斯的纬度位置。

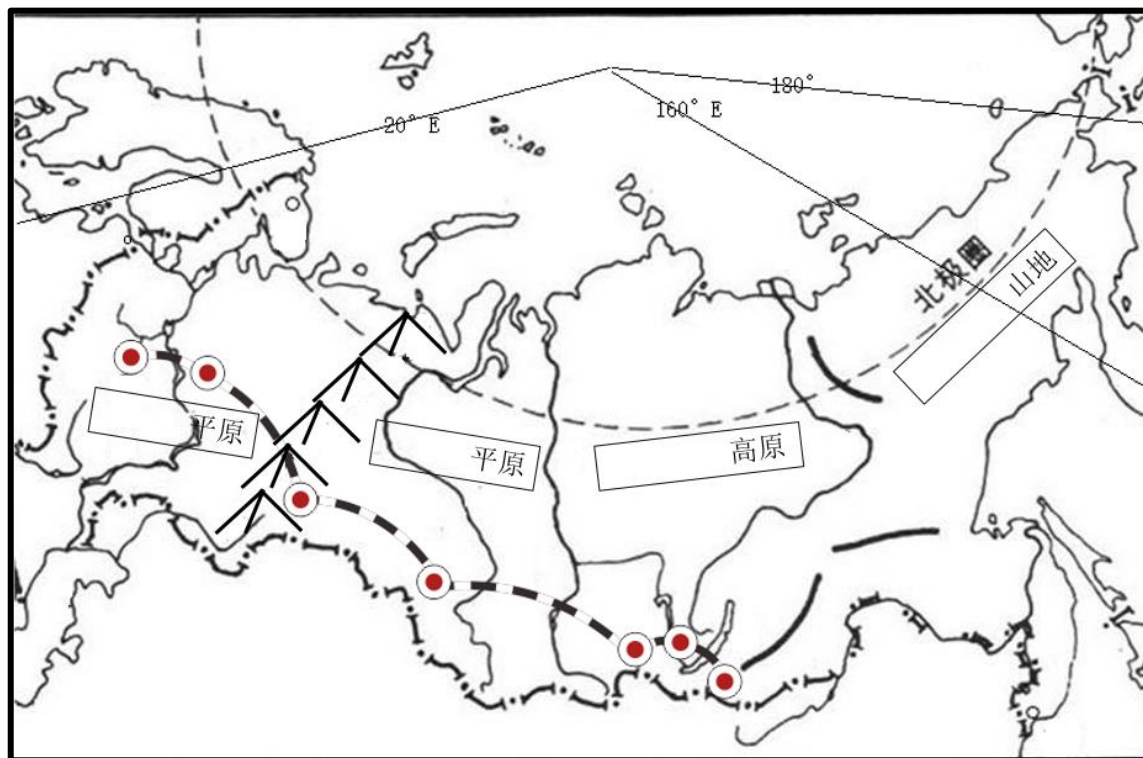
纬度位置：纬度\_\_\_\_\_，跨\_\_\_\_\_带和\_\_\_\_\_带

2、用红笔描绘 160°E 经线经线，概括俄罗斯的经度位置。

经度位置：东西距离\_\_\_\_\_，地跨\_\_\_\_\_、\_\_\_\_\_两洲，地跨\_\_\_\_\_、\_\_\_\_\_两半球

3、在图上填充太平洋、北冰洋、波罗的海，概括俄罗斯的海陆位置。

海陆位置：俄罗斯是一个\_\_\_\_\_（岛国/内陆国/海陆兼备）的国家，东临\_\_\_\_\_洋，西临\_\_\_\_\_海，北临\_\_\_\_\_洋



##### ● 学习任务二：俄罗斯美不美？

根据老师的提示，完成下列问题。（4分钟）

1、找出 K3 线路俄罗斯段所经过的地形区，并填写在上图的方框中。

2、用蓝笔在上图中描绘 K3 线路所经过的河流、湖泊，并概括俄罗斯亚洲部分河流的流向。

河流：亚洲：自\_\_\_\_\_向\_\_\_\_\_，注入\_\_\_\_\_洋

欧洲：“母亲河” \_\_\_\_\_，自\_\_\_\_\_向\_\_\_\_\_，注入\_\_\_\_\_（世界上最长的\_\_\_\_\_河）

湖泊：\_\_\_\_\_湖（世界上最\_\_\_\_\_的淡水湖）

● 学习任务三：俄罗斯冷不冷？

读俄罗斯气候分布图，小组讨论，回答 1~3 题。（3 分钟）



1、俄罗斯有几种气候分布？分别是？

2、不同气候类型的分布特征？

3、K3 线路俄罗斯段所经过的气候类型是？

4、读雅库茨克气候类型直方图，填写下列问题。

(1)、雅库茨克最热月均温约\_\_\_\_\_°C。

(2)、雅库茨克最冷月均温约\_\_\_\_\_°C。

(3)、\_\_\_\_\_月均温高于 10 °C；  
\_\_\_\_\_月均温低于 0 °C 。

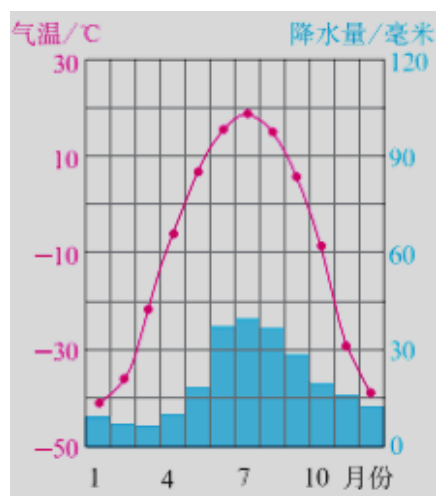
(4)、雅库茨克的年降水分布特征？

全年降水\_\_\_\_\_，多集中在\_\_\_\_\_季

(5)、概括俄罗斯温带大部分地区气候特征：

冬季\_\_\_\_\_，夏季\_\_\_\_\_

全年降水\_\_\_\_\_，多集中在\_\_\_\_\_季



5、读俄罗斯城市、人口分布图，概括俄罗斯城市、人口分布特征。



城市、人口分布：

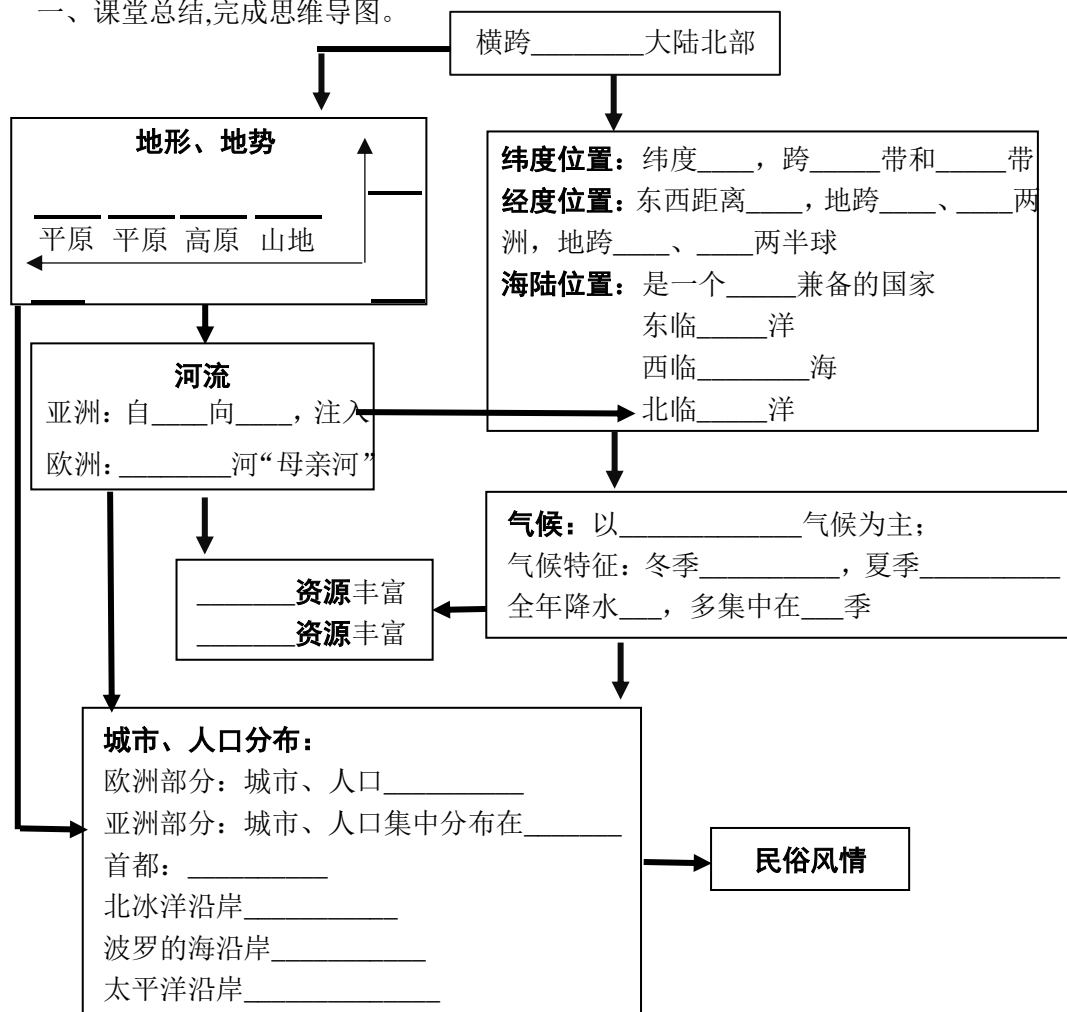
欧洲部分：城市、人口\_\_\_\_\_（密集/稀疏）

亚洲部分：城市、人口集中分布在\_\_\_\_\_部（方位）

首都：\_\_\_\_\_；北冰洋沿岸：\_\_\_\_\_；波罗的海沿岸：\_\_\_\_\_；太平洋沿岸：\_\_\_\_\_

● 课后习

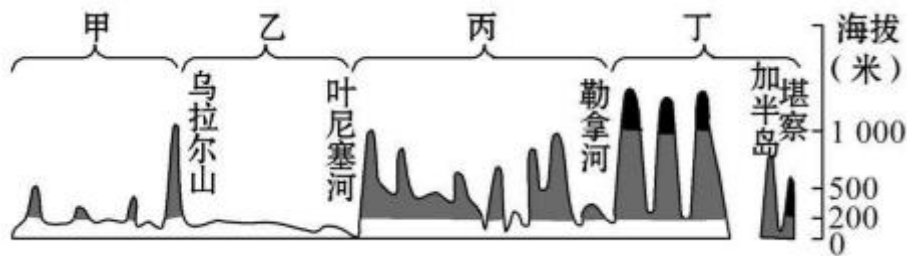
一、课堂总结,完成思维导图。



二、选择题

1. 俄罗斯的大部分国土和大部分人口分别在 ( )  
 A. 亚洲、亚洲 B. 欧洲、欧洲 C. 欧洲、亚洲 D. 亚洲、欧洲

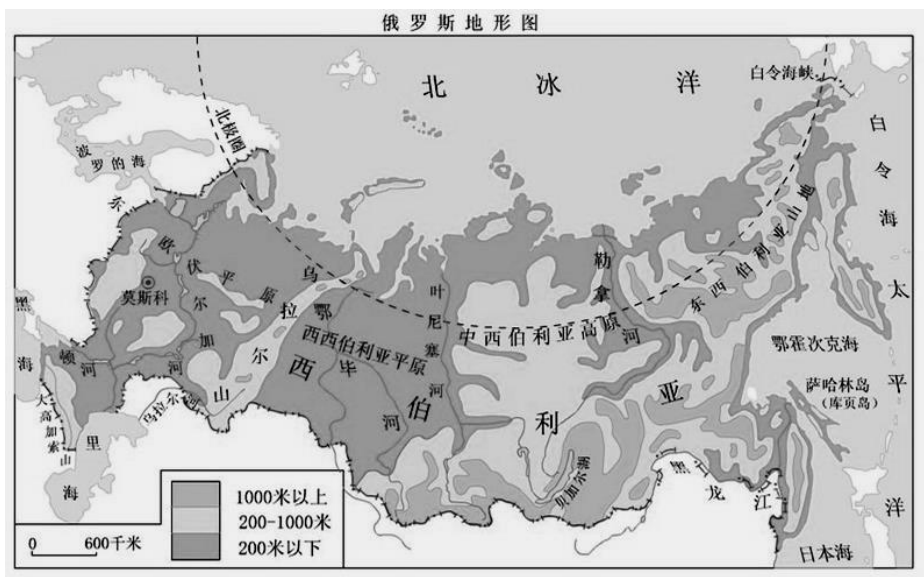
下图为俄罗斯境内 60° N 地形剖面图。据此，完成 2~3 题。



2. 俄罗斯的地势是 ( )  
 A. 西高东低 B. 西低东高 C. 北高南地 D. 南高北低
3. 乙地地形类型主要是 ( )  
 A. 高原 B. 平原 C. 山地 D. 丘陵
4. 俄罗斯的主要气候类型是 ( )  
 A. 温带季风气候 B. 极地气候  
 C. 温带海洋性气候 D. 温带大陆性气候
5. 俄罗斯森林资源丰富,从东欧平原东部到西伯利亚,分布着大面积的 ( )  
 A. 热带雨林 B. 温带落叶阔叶林  
 C. 亚热带常绿阔叶林 D. 亚寒带针叶林

三、填空题。

(一)、读俄罗斯地形图，回答下列问题。



- 1、俄罗斯位于亚欧大陆的北部,领土包括\_\_\_\_\_洲的东部和\_\_\_\_\_洲的北部。
- 2、特殊纬线\_\_\_\_\_穿过俄罗斯北部,俄罗斯横跨\_\_\_\_\_带、\_\_\_\_\_带;领土约1707万平方千米,是世界上国土面积第\_\_\_\_\_大的国家。
- 3、俄罗斯东临\_\_\_\_\_洋,北临\_\_\_\_\_洋,西临\_\_\_\_\_海和大西洋相通,东西跨度\_\_\_\_\_;从半球上看,俄罗斯是地跨\_\_\_\_\_、\_\_\_\_\_两个半球的国家。
- 4、地形以\_\_\_\_\_、\_\_\_\_\_为主,自西向东依次是:\_\_\_\_\_平原、\_\_\_\_\_平原、\_\_\_\_\_高原、\_\_\_\_\_山地四大地形区。
- 5、俄罗斯亚洲部分的河流多自\_\_\_\_\_向\_\_\_\_\_注入\_\_\_\_\_,俄罗斯的母亲河是\_\_\_\_\_,自\_\_\_\_\_向\_\_\_\_\_注入\_\_\_\_\_。

(二)、读俄罗斯气候类型分布图,回答下列问题。



- 1、俄罗斯地跨亚欧两洲,其境内的\_\_\_\_\_山脉是亚欧两洲的分界线。
- 2、俄罗斯地形以\_\_\_\_\_为主,地势特点是\_\_\_\_\_。
- 3、由于俄罗斯纬度高,东西跨度大,大部分地区以\_\_\_\_\_气候为主。
- 4、俄罗斯大部分地区气候的显著特点是冬季\_\_\_\_\_,夏季\_\_\_\_\_,年降水量\_\_\_\_\_。
- 5、图中 ABCD 四城市,有“极昼极夜”现象的是\_\_\_\_\_。